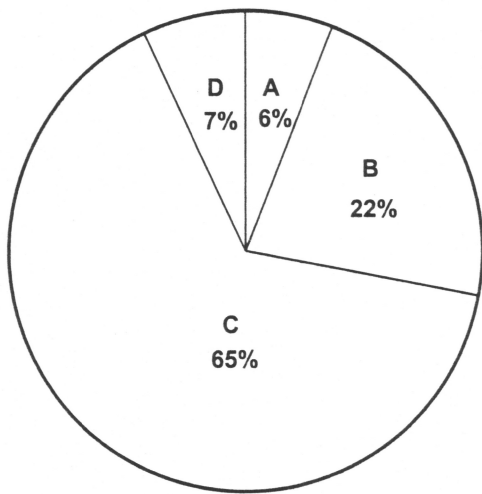
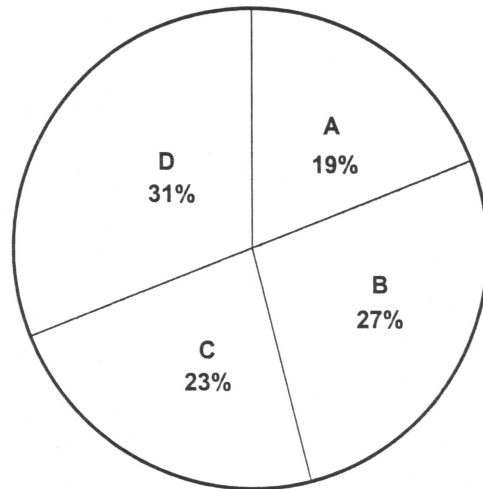


9) Poniższe diagramy kołowe przedstawiają użytkowanie ziemi w Brazylii, Stanach Zjednoczonych i Polsce.

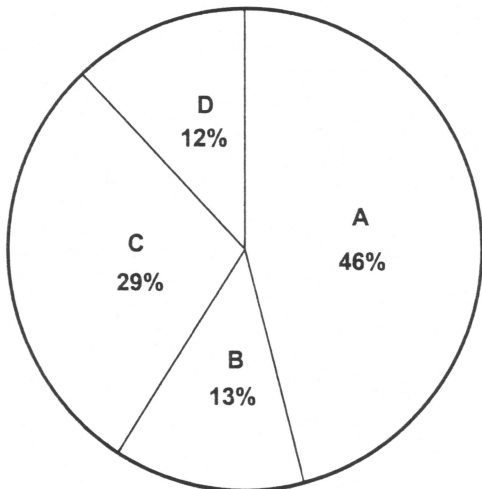
BRAZYLIA



STANY ZJEDNOCZONE AMERYKI PN.



POLSKA



- A** grunty orne, plantacje i sady
- B** łąki i pastwiska
- C** lasy
- D** pozostałe grunty niewykorzystane rolniczo

Na podstawie diagramów odpowiedz na pytania.

- W którym z podanych państw jest najwięcej lasów?.....
Ile procent? W którym jest najmniej lasów?
Ile procent?
- W którym państwie najwięcej ziemi przeznaczono na pola uprawne?
..... W którym najmniej?
- W którym państwie jest najwięcej łąk i pastwisk?